


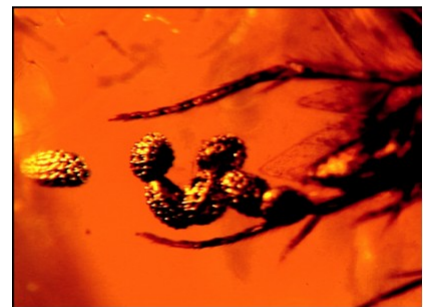


I. Dopasuj podpis do odpowiedniego kadru. Wpisz w okienkach właściwe numery.

1. W kopalni bursztynu (Dominikana)
2. Bursztynowe ozdoby ścian pałacowych
3. Jajeczka komara zachowane w bursztynie

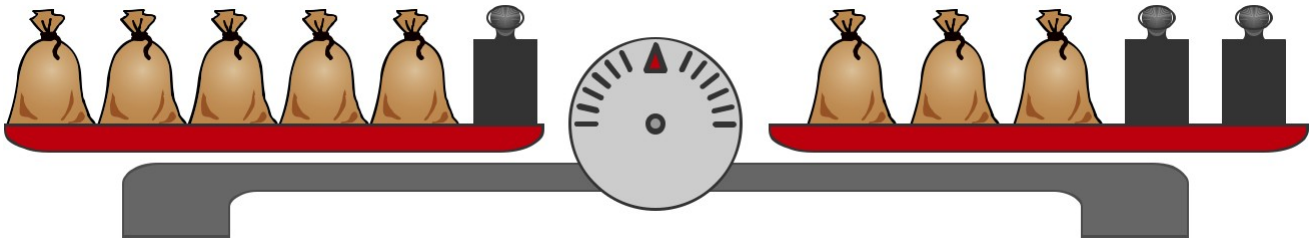


4. Badanie bursztynu w poszukiwaniu DNA owadów
5. Ładunki elektryczne gromadzone w bursztynie
6. Pyłek kwiatowy zachowany w bursztynie



## II. Rozwiąż poniższe zadania.

**Zadanie 1.** a) Każdy woreczek z bursztynami waży 1 kg. Wagi wszystkich odważników są sobie równe. Ile waży jeden odważnik widoczny na wadze?

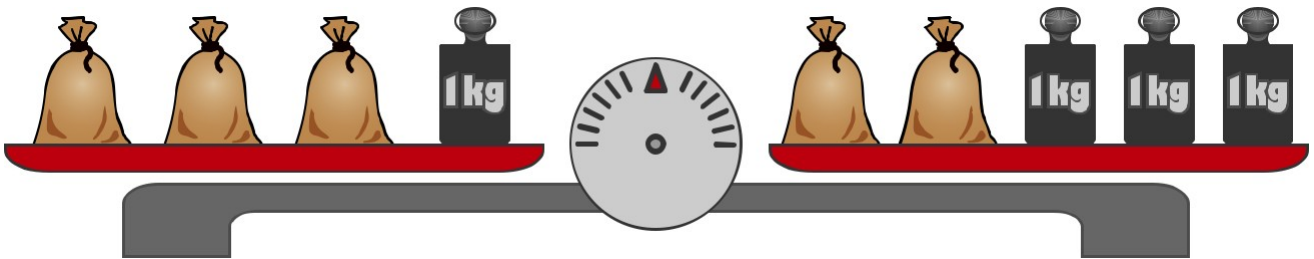


.....

Odp.

.....

b) Każdy woreczek z bursztynami waży tyle samo. Ile?



.....

Odp.

.....