

Klasa 2b poniedziałek 18.05.2020

edukacja wczesnoszkolna

- **Przeczytaj dokładnie dzisiejszą lekcję z edukacji matematycznej i obejrzyj filmik na youtube**

<https://www.youtube.com/watch?v=mvZ3XIR4ALw&feature=share&fbclid=IwAR3Qfr2H6s1SWXyIWGSm2f6vEUc1EKugLES4BCBbPIZSwnfnIN7EXNU66I3A>

Poznaję liczby trzycyfrowe – pełne setki

Oblicz sumę największej liczby dwucyfrowej i liczby 1- czyli $99+1=100$

Oblicz sumę liczb 98 i 2

➤

Podaj 2 inne przykłady liczb, których suma jest równa 100.

➤

➤

Zapamiętaj!!!!



Liczba 100 jest najmniejszą liczbą trzycyfrową.

Przeczytaj nazwy kolejnych setek.

100 sto

200 dwieście

300 trzysta

400 czterysta

500 pięćset

600 sześćset

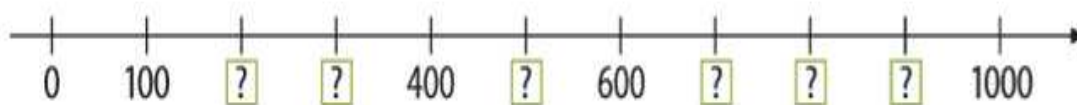
700 siedemset

800 osiemset

900 dziewięćset

1

Odpowiedz jakie liczby należy wpisać zamiast znaków zapytania?



W każdej parze liczb przeczytaj większą liczbę



Dzisiaj poznałeś najmniejszą liczbę trzycyfrową 100 oraz pozostałe pełne liczby trzycyfrowe: 200, 300, 400, 500, 600, 700, 800, 900.

- **Rozpoznaj kwiaty. Pokoloruj je odpowiednio i napisz kolejno ich nazwy. Pomoże Ci w tym zadaniu ilustracja zamieszczona poniżej.**



n

k

r

c

m

- **Zastanów się i napisz 3 zdania w zeszyte do edukacji polonistycznej, który kwiat podarowałbyś мамie. Uzasadnij swoją wypowiedź.**

- Przyjrzyj się zdjęciu poniżej i podaj mamie nazwę kwiatów, z których powstał bukiet trzymany przez dziewczynkę.




Zadania dodatkowe dla chętnych znajdziesz w ćwiczeniach na stronie 63.

Edukacja muzyczna

Temat: Zapisujemy klucz wiolinowy i dźwięki gamy. Nazywamy solmizacyjnie dźwięki gamy C-dur. Dobieramy wyrazy do rytmów.


Zadanie 1-2 przeznaczone są dla wszystkich uczniów, zadanie 3 (dla chętnych).

1. Narysuj klucz wiolinowy i uzupełnij gamę



A musical staff with a treble clef. The staff contains six notes: a half note on the first line (do), a half note on the second space (re), a half note on the third space (fa), a half note on the fourth space (sol), a half note on the fifth space (si), and a half note on the first line of the next staff (do). Below the notes are the solfège syllables: do, re, fa, sol, si, do.

2. Napisz jak nazywają się te wartości rytmiczne?



Three musical notes are shown above three empty musical staves. The first note is a quarter note, the second is a half note, and the third is an eighth note.

3. Dobierz wyrazy do rytmów.

mu-zy-ka



nu-ty

pię-cio-li-nia



rytm

zwrot-ka



pio-sen-ka



Pomocne zdjęcie:

