

05.06.2020 r. piątek

religia

Temat: Pismo Święte - zadziwiająca księga cz.1. - kształcenie na odległość.

Witam Was bardzo serdecznie.

Kochani dobrze wiecie, że dla ludzi kochających Pana Jezusa jest taka księga, która jest najważniejszą księgą. Chodzi o Pismo Święte. Chciałbym, żebyście dzisiaj obejrzeni sobie pierwszą część filmu o tej właśnie księdze, a w późniejszym czasie obejrzymy drugą część. Dzisiaj tylko pierwsza :)

Pozdrawiam Was serdecznie. :) Trzymajcie się zdrowo :)

<https://www.youtube.com/watch?v=dlfkCDs8SqA>

edukacja polonistyczna

1. Czytanie tekst w podręczniku na s. 90.
2. Pisownia wyrazów z rz.

1 Odszyfruj wiadomość i ją zapisz. Postaw na końcu odpowiedni znak interpunkcyjny.

| | | |
|-----|----|--|
| TO | NA | |
| GO | ŁA | |
| NIA | DA | |
| | | |

2 Wypisz z tekstu z pamiętnika na s. 90 w podręczniku wyrazy z rz. Wyjaśnij ustnie ich pisownię.

Napisz w zeszycie zdanie z ćwiczenia 5.

3. Znajdź w tekście z pamiętnika zdanie pojedyncze i zdanie złożone. Przepisz oba do zeszytu i podkreśl w nich czasowniki.

5 Przeczytaj drugie zdanie tekstu z pamiętnika na s. 90 w podręczniku. Wskaż w nim czasowniki. Jakie to zdanie: pojedyncze czy złożone?

6 Przeczytaj zdania. Przy zdaniach pojedynczych napisz P, a przy złożonych – Z.

Ania zaczyna wkrótce upragniony wakacyjny wypoczynek.

Wyjedzie w polskie góry albo poleci samolotem do Grecji.


Wierzy, że to będzie fantastyczny czas.

Wróci wypoczęta, zrelaksowana, opalona i zadowolona.

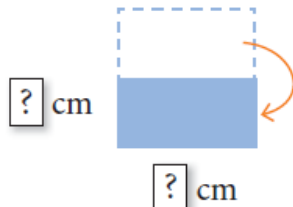
edukacja matematyczna

- 2 Wykonaj polecenia zgodnie z instrukcją. Podaj wymiary każdego prostokąta.

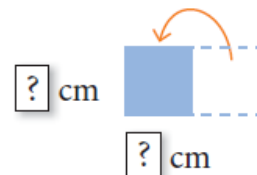
1. Przygotuj kwadrat.



2. Złóż kwadrat na pół.



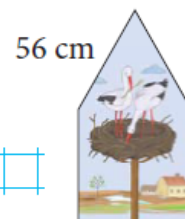
3. Złóż powstały prostokąt na pół.



- Oblicz obwód kwadratu o boku 4 cm.
- Oblicz obwód prostokąta powstałego w punkcie 2. instrukcji.
- O ile centymetrów obwód kwadratu z punktu 1. instrukcji jest większy od obwodu kwadratu z punktu 3.?
- O ile centymetrów zwiększy się obwód kwadratu o boku 4 cm, jeśli każdy bok tego kwadratu zwiększymy 2 razy?

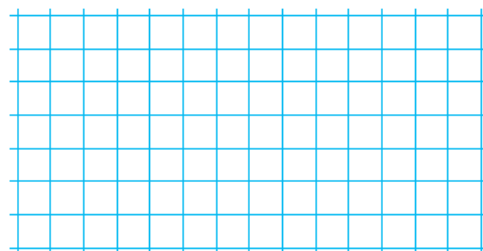
Karty pracy s. 80.

- 1 Oblicz obwód obrazu o takim kształcie jak na rysunku. Każdy bok obrazu ma taką samą długość. Odczytaj tę długość na rysunku.



- 2 Narysuj prostokąt, którego krótsze boki mają po 3 cm długości, a pozostałe boki są dwa razy dłuższe.

- Podziel prostokąt czerwoną linią na dwie symetryczne części. Zrób to na dwa sposoby.



zajęcia rozwijające kreatywność

Link do puzzli: <https://puzzlefactory.pl/pl/puzzle/graj/krajobrazy/241858-na-wakacjach>

wychowanie fizyczne

Link do ćwiczeń: https://www.youtube.com/watch?v=Xn7Hc_xRLIA

Proszę przesłać swoje prace na e-mail zagrodnik.hanna@outlook.com do 08.06.2020 r.
(poniedziałek) do godz. 15⁰⁰.

Pozdrawiam Was
Hanna Zagrodnik